

Motorista

Antes de iniciar a prova, leia as instruções:

- ✓ Para fazer a prova, você recebeu:
 - este caderno de prova, que contém **40 questões**;
 - um cartão de respostas.
- ✓ **Confira:**
 - **no cartão de respostas:** nome, número e cargo, emprego ou função da inscrição.
 - **no caderno de prova:** cargo, emprego ou função e quantidade de questões.
- ✓ **Duração da prova: 3 horas**
 - Incluído o tempo para o preenchimento do cartão de respostas.
 - Levar caderno: após **60 minutos de prova**.
 - Por questões de segurança, o candidato que sair antes desse tempo devolverá ao fiscal da sala, além do cartão de respostas, o caderno de prova.
- ✓ Verifique, no caderno de prova, se:
 - faltam folhas e se a sequência e a quantidade de questões estão corretas.
 - há imperfeições gráficas que possam causar dúvidas.
- ✓ **Comunique imediatamente ao fiscal qualquer irregularidade! Não serão admitidas reclamações posteriores.**
- ✓ A interpretação das questões é parte integrante da prova, não sendo permitidas perguntas relacionadas ao conteúdo aos fiscais.
- ✓ Não é permitido qualquer tipo de consulta durante a realização da prova, tampouco empréstimo de materiais e comunicação entre os candidatos.
- ✓ **O cartão de respostas é o único documento válido e utilizado para a correção da prova objetiva.** Preencha-o com cuidado, marcando apenas uma alternativa para cada questão.
- ✓ Não rabisque, rasure, amasse ou dobre o cartão de respostas. É vedada a substituição do cartão de respostas decorrente de erro do candidato.
- ✓ As respostas devem ser transcritas exclusivamente para o cartão de respostas, sendo proibida a cópia em qualquer outro local.
- ✓ É proibido anotar o conteúdo da prova em qualquer local fora do caderno de provas.
- ✓ Ao concluir a prova, permaneça em seu lugar e comunique ao fiscal de sala, aguardando autorização para entregar o material.
- ✓ Ao terminar a prova, entregue ao fiscal o cartão de respostas devidamente preenchido e assinado.
- ✓ Os três últimos candidatos devem permanecer em sala a fim de acompanhar o fechamento do material.

Fraudar ou tentar fraudar concursos públicos é crime previsto no art. 311-A do Código Penal.

Nome do Candidato:

Nº de Inscrição:

Pressão arterial com valor de 12/8 passa a ser considerada pré-hipertensão

A leitura de 12/8, antes vista como sinônimo de pressão arterial perfeita, agora é classificada como pré-hipertensão, de acordo com as novas diretrizes elaboradas pela Sociedade Brasileira de Cardiologia, Nefrologia e Hipertensão.

As novas diretrizes indicam que quem está na faixa de pré-hipertensão deve adotar mudanças no estilo de vida, como reduzir o consumo de sal, controlar o peso, praticar atividades físicas e gerenciar o estresse. O uso de medicamentos, no entanto, só é considerado em casos específicos — como em pessoas com pressão acima de 13/8 associada a diabetes ou doenças renais.

A hipertensão raramente aparece sozinha. Em grande parte dos casos ela vem acompanhada de obesidade, colesterol alto e glicemia elevada, o que multiplica os riscos. Por isso, a diretriz reforça a importância de observar o paciente como um todo, e não apenas o número no medidor.

A hipertensão não controlada é a principal causa de mortes no mundo, direta ou indiretamente. Por isso, o recado é simples: medir a pressão ao menos uma vez por ano e procurar acompanhamento médico regular. É uma doença silenciosa, mas que pode ser prevenida com atitudes simples. O importante é não esperar os sintomas aparecerem.

Fonte: Jornal da USP no Ar. Adaptado.

1) A palavra “hipertensão” contém o prefixo “hiper”, que é adicionado nessa palavra para significar:

- a) Afastamento ou privação.
- b) Negação de algo.
- c) Posição abaixo do normal.
- d) Posição acima do normal.

2) De acordo com as informações do texto, avaliar se as afirmativas são certas (C) ou erradas (E) e assinalar a sequência correspondente.

- () A nova faixa de hipertensão está abaixo da antiga de 12/8.
- () Não controlar a hipertensão é a principal causa de mortes no mundo.
- () É recomendado medir a pressão ao menos uma vez por ano e ter acompanhamento médico regular.

- a) C - C - E.
- b) E - E - C.
- c) C - E - E.
- d) E - C - C.

3) De acordo com o texto, assinalar a alternativa CORRETA.

- a) Gerenciar o estresse é uma das mudanças de estilo de vida que pioram a pressão arterial.
- b) O uso de medicamentos é indicado para pessoas com pressão abaixo de 13/8.
- c) É raro a hipertensão aparecer sozinha.
- d) A diretriz reforça observar apenas o número do medidor.

4) Qual das alternativas apresenta antônimos para os termos sublinhados abaixo, respectivamente?

É uma doença silenciosa, mas que pode ser prevenida com atitudes simples. (4º parágrafo)

- a) Barulhenta | complexas.
- b) Quieta | descomplicadas.
- c) Estrondosa | fáceis.
- d) Sossegada | confusas.

5) Analisando o emprego da expressão “graças a”, assinalar a alternativa CORRETA.

- a) A doença se extinguiu graças ao medicamento.
- b) Graças ao bandido, perdi meu relógio.
- c) Graças à professora, o aluno perdeu seu ônibus.
- d) Fui reprovado na prova graças à minha inteligência.

6) O enunciado abaixo apresenta apenas um erro. Assinalar a alternativa que aponta esse erro CORRETAMENTE.

A assembleia se reuniu hoje para votar diversos assuntos, como o novo código a nova chefia e o local do evento.

- a) A palavra “assembleia” deveria ser acentuada.
- b) O verbo “reuniu” deveria estar no plural (“reuniram”).
- c) Falta uma vírgula após “novo código”.
- d) Deve haver uma vírgula depois de “diversos”.

7) Assinalar a alternativa em que o predicado foi sublinhado.

- a) A professora explicou o tema.
- b) Nós caminhamos pela calçada.
- c) Brincaram bastante o gato e o cachorro.
- d) Minha mãe cozinhou.

8) Considerando-se a flexão do verbo "beber", avaliar se as afirmativas são certas (C) ou erradas (E) e assinalar a sequência correspondente.

- () Ele bebi suco no almoço.
- () Eu bebia xarope antes de dormir.
- () Ela beberá água com gás.

- a) C - C - E.
- b) E - E - C.
- c) C - E - E.
- d) E - C - C.

9) Com base nas normas ortográficas da Língua Portuguesa, assinalar a alternativa CORRETA.

- a) Sempre tive dificuldades com excessões.
- b) Não gosto de comer caranguejo.
- c) Os internaltas são bastante atenciosos.
- d) Nunca comi pão com mortandela.

10) Considerando-se a frase "Os funcionários atentos e organizados receberam a notificação.", avaliar se as afirmativas são certas (C) ou erradas (E) e assinalar a sequência correspondente.

- () A palavra "Os" é um pronome.
- () A palavra "funcionários" é um substantivo masculino no plural.
- () As palavras "atentos" e "organizados" caracterizam o substantivo "funcionários".

- a) C - C - E.
- b) E - E - C.
- c) C - E - E.
- d) E - C - C.

11) A forma plural CORRETA e semanticamente adequada da frase "O cidadão demonstrou tensão" é:

- a) Os cidadãos demonstraram tensões.
- b) Os cidadãos demonstraram tensãos.
- c) Os cidadãos demonstraram tensões.
- d) Os cidadãos demonstraram tensãos.

12) Com base no emprego de "mau" e "mal", assinalar a alternativa cujos elementos preenchem as lacunas abaixo CORRETAMENTE.

- I. Tenho um conhecido vizinho que é muito _____.
- II. Não há nenhum _____ na utilização do conhecimento.
- III. Aquele indivíduo anda _____ e fala _____.

- a) mau | mal | mal | mal
- b) mal | mal | mal | mal
- c) mau | mau | mal | mal
- d) mal | mau | mau | mau

13) Assinalar a alternativa que apresenta sentido figurado.

- a) Minha mente é um labirinto.
- b) Cantei minha música favorita.
- c) O repertório não agradou ao público.
- d) O gato subiu na cama.

14) Assinalar a alternativa que apresenta apenas palavras proparoxítonas.

- a) Até | didático | tênis.
- b) Árvore | bússola | crítico.
- c) Dócil | céu | peru.
- d) Recém | paralelepípedo | jiló.

15) Assinalar a alternativa em que o verbo sublinhado esteja no modo imperativo.

- a) Não gosto de macarrão à bolonhesa.
- b) Ela falou sobre a apresentação.
- c) Pare de inventar história.
- d) Ele cantará no show.

MATEMÁTICA | 10 QUESTÕES

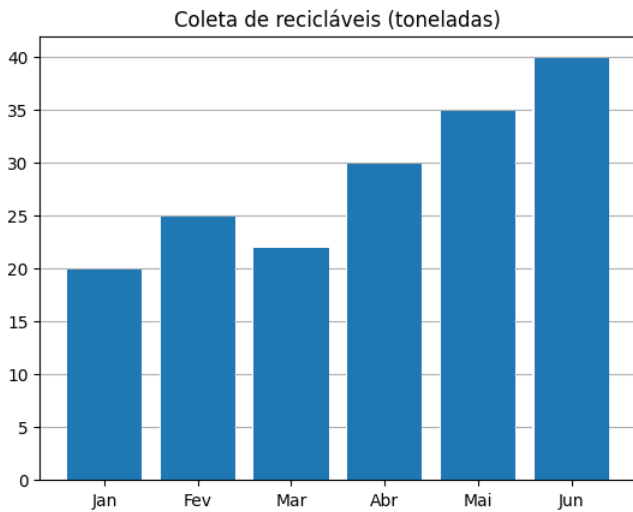
16) Analisar o trecho a seguir.

Pela primeira vez na história da Mega da Virada, o tão esperado sorteio ficou para depois. Segundo a Caixa Econômica Federal, o adiamento foi necessário para ajustes operacionais. A espera acabou quase às 11h do dia 1º, com o sorteio dos seis números: 09 - 13 - 21 - 32 - 33 - 59. E foram seis apostas vencedoras. Fonte: G1. Adaptado.

Com base nas informações contidas no texto, assinalar a alternativa que corresponde à probabilidade de se escolher um desses números sorteados na Mega da Virada e ele ser primo.

- a) 1/2
- b) 1/3
- c) 1/6
- d) 1/4

17) O gráfico a seguir mostra a quantidade, em toneladas, de resíduos recicláveis coletados por uma cooperativa ao longo de seis meses.



Com base nos dados apresentados no gráfico, avaliar se as afirmativas são certas (C) ou erradas (E) e assinalar a sequência correspondente.

- () A cada mês, houve incremento constante de 5 toneladas.
- () A menor quantidade coletada ocorreu no mês de janeiro.
- () A coleta realizada em junho é o dobro da realizada em janeiro.

- a) C - C - E.
- b) E - E - C.
- c) C - E - E.
- d) E - C - C

18) Para assistir a um filme no cinema, cada ingresso de adulto custa R\$ 30,00, e cada ingresso de criança custa R\$ 15,00. Considerando-se isso, avaliar se as afirmativas são certas (C) ou erradas (E) e assinalar a sequência correspondente.

- () Para comprar dois ingressos de adulto e dois ingressos de criança, gasta-se R\$ 90,00.
- () Com R\$ 100,00, é possível comprar três ingressos de adulto e um de criança.
- () Com R\$ 140,00, é possível comprar no máximo seis ingressos de criança.

- a) C - C - E.
- b) E - E - C.
- c) C - E - E.
- d) E - C - C.

19) Considerando-se o resultado das expressões, avaliar se as afirmativas são certas (C) ou erradas (E) e assinalar a sequência correspondente.

- () O resultado de $5 - 8 \times 0$ é igual ao resultado de $2 - 28 \div 4$.
- () O resultado de $15 - 5 \times 2$ é maior que o resultado de $15 \div 5 + 2$.
- () O resultado de $8 \times 1 - 10$ é um número negativo.

- a) C - C - E.
- b) E - E - C.
- c) C - E - E.
- d) E - C - C.

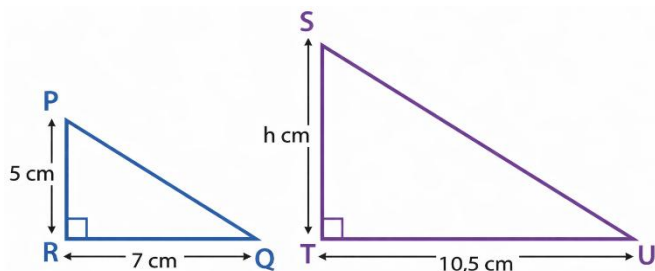
20) Em uma urna, há três bolas azuis e cinco bolas vermelhas, todas iguais em tamanho e peso, diferindo apenas pela cor. Uma pessoa retira duas bolas ao acaso, sem reposição, isto é, a primeira bola retirada não é devolvida à urna antes da retirada da segunda. Sobre as probabilidades quanto às cores das bolas retiradas, analisar os itens.

- I. A retirada de duas bolas azuis é impossível de acontecer.
- II. A retirada de duas bolas vermelhas é o evento menos provável.
- III. É mais provável ocorrer pelo menos uma bola azul do que ocorrer duas bolas azuis.

Está CORRETO o que se afirma:

- a) Apenas no item I.
- b) Apenas no item II.
- c) Apenas no item III.
- d) Apenas nos itens II e III.

21) Os triângulos retângulos $\triangle PRQ$ e $\triangle STU$, representados na figura, são semelhantes.



O valor de h , para que os dois triângulos sejam proporcionais, é:


- a) 6,5cm
- b) 7,0cm
- c) 7,5cm
- d) 8,0cm

22) Assinalar a alternativa que apresenta a raiz da equação abaixo.

$$\frac{x}{2} + \frac{x}{3} + \frac{x}{5} = 2 \times 30 + 2 \times 2^0$$

- a) 20
- b) 21
- c) 62
- d) 60

23) Uma prova que iniciou pela manhã, no horário indicado no relógio abaixo, tem duração máxima de 03 horas e 45 minutos.



Sobre isso, analisar os itens.

- I. Se a prova terminar exatamente no tempo máximo previsto, o horário final será 11:21.
- II. Após 1 hora e 15 minutos do início da prova, o relógio marcará 08:51.
- III. Quando estiver faltando apenas 1 hora para o término da prova, o relógio marcará 10:81.

Está CORRETO o que se afirma:

- a) Apenas nos itens I e II.
- b) Apenas nos itens I e III.
- c) Apenas nos itens II e III.
- d) Em todos os itens.

24) Na entrada de um estacionamento pago, encontra-se a seguinte placa dos valores cobrados:

ESTACIONE AQUI!

1ª hora	R\$ 15,00
2ª hora	R\$ 12,00
3ª hora em diante	R\$ 5,00 por hora

Um motorista estaciona seu veículo às 22h15 e o retira às 7h15 do dia seguinte, permanecendo no estacionamento durante todo esse período, sem interrupções. O valor total a ser pago para o estacionamento é:

- a) R\$ 57,00
- b) R\$ 62,00
- c) R\$ 65,00
- d) R\$ 72,00

25) Considerando-se a correlação entre meses e períodos do ano, avaliar se as afirmativas são certas (C) ou erradas (E) e assinalar a sequência correspondente.

- () Março é um mês do primeiro trimestre do ano.
- () Julho é um mês do segundo trimestre do ano.
- () Setembro é um mês do último trimestre do ano.
- () Agosto é um mês do segundo semestre do ano.

- a) C - C - E - E.
- b) E - E - C - C.
- c) C - E - E - C.
- d) E - C - C - E.

CONHECIMENTOS ESPECÍFICOS | 15 QUESTÕES

26) Quanto às competências atribuídas ao Município pela Lei Orgânica Municipal, avaliar se as afirmativas são certas (C) ou erradas (E) e assinalar a sequência correspondente.

- () Exigir ou aumentar tributo sempre que o interesse público assim o exigir, independentemente de lei que o estabeleça.
- () Organizar e manter os serviços de fiscalização necessários ao exercício do seu poder de polícia administrativa.
- () Realizar, diretamente ou mediante autorização ou concessão, o serviço de iluminação pública.

- a) C - C - E.
- b) E - E - C.
- c) C - E - E.
- d) E - C - C.

27) No que tange ao regime disciplinar, quanto aos deveres e às proibições previstos ao servidor público na Lei Complementar Municipal nº 005/2021, relacionar as colunas e assinalar a sequência correspondente.

- (1) Dever.
- (2) Proibição.

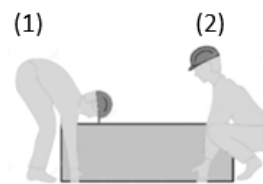
- () Promover manifestação de apreço ou despreço no recinto da repartição.
- () Tratar as pessoas com urbanidade.
- () Proceder de forma desidiosa.

- a) 1 - 1 - 2.
- b) 1 - 2 - 1.
- c) 2 - 1 - 2.
- d) 2 - 2 - 1.

28) Nos termos da Lei Complementar Municipal nº 005/2021, o instrumento destinado a apurar responsabilidade de servidor por infração praticada no exercício de suas atribuições, ou que tenha relação com as atribuições do cargo em que se encontra investido, é denominado:

- a) Contestação funcional.
- b) Processo disciplinar.
- c) Recurso administrativo.
- d) Litígio interno.

29) Durante o levantamento de uma caixa de 50kg, os trabalhadores 1 e 2 adotam posturas diferentes, conforme ilustrado abaixo.



Considerando-se as boas práticas de segurança no trabalho, assinalar a alternativa CORRETA.

- a) A postura (1) é a mais segura, pois permite maior alcance dos braços.
- b) A postura (1) é a mais segura, pois mantém as pernas esticadas e reduz esforço nos joelhos.
- c) A postura (2) é a mais segura, pois mantém a coluna reta e utiliza a força das pernas para levantar.
- d) As duas posturas são seguras, pois utilizam contrapontos para compensar as partes que serão mais forçadas.

30) Sobre ética no serviço público, é CORRETO afirmar que:

- a) O servidor público deve agir com honestidade, imparcialidade e respeito ao interesse coletivo.
- b) A ética no serviço público está relacionada apenas ao cumprimento de horários.
- c) O servidor público pode usar o cargo para obter vantagens pessoais, desde que não prejudique o setor.
- d) A ética se aplica apenas aos cargos de chefia.

31) No contexto de primeiros socorros no trânsito, considerando como agir em situações de hemorragias externas, assinalar a alternativa CORRETA.

- a) A técnica mais simples para controlar uma hemorragia externa é aplicar compressão direta sobre o ferimento com gaze ou pano limpo, utilizando luvas quando disponível, e cuidando apenas das lesões visíveis que continuam sangrando, desde que você se sinta seguro para agir.
- b) Todas as técnicas de controle de hemorragia externa devem ser realizadas apenas por profissionais de saúde, não sendo permitido qualquer tipo de ação por pessoas leigas, mesmo em situações de emergência.
- c) Para conter hemorragias externas, é recomendado movimentar a vítima para posicioná-la de forma mais confortável, mesmo que isso cause deslocamento do ferimento.
- d) O controle de hemorragias externas deve ser iniciado imediatamente sem o uso de qualquer proteção, pois o risco de contaminação é mínimo em acidentes de trânsito.

32) O comportamento profissional adequado no ambiente de trabalho inclui:

- I. Priorizar interesses pessoais em detrimento da equipe.
- II. Agir com ética, responsabilidade e equilíbrio emocional.
- III. Respeitar as normas inclusive quando não há supervisão.

Está CORRETO o que se afirma:

- a) Apenas no item III.
- b) Apenas nos itens I e II.
- c) Apenas nos itens I e III.
- d) Apenas nos itens II e III.

33) Em casos de chuva intensa, o carro pode perder o contato com o solo, por conta de uma camada de água que fica embaixo do pneu. Esse fenômeno pode causar acidentes e se chama:

- a) Terraplenagem.
- b) Mimetismo.
- c) Aquaplanagem.
- d) Ofuscamento.

34) O Código de Trânsito Brasileiro estabelece limites de velocidade para garantir a segurança dos usuários das vias. Quando não houver sinalização específica indicando o limite de velocidade, o condutor deve respeitar as velocidades máximas definidas em lei para cada tipo de via. De acordo com o Código de Trânsito Brasileiro, a velocidade máxima permitida em vias locais urbanas quando não houver sinalização regulamentadora é:

- a) 80km/h (oitenta quilômetros por hora).
- b) 60km/h (sessenta quilômetros por hora).
- c) 40km/h (quarenta quilômetros por hora).
- d) 30km/h (trinta quilômetros por hora).

35) Conforme a Lei nº 9.503/1997, Código de Trânsito Brasileiro, constitui infração média, com penalidade multa, dirigir veículo:

- I. Usando calçado que não se firme nos pés ou que comprometa a utilização dos pedais.
- II. Utilizando-se de telefone celular ou de fones nos ouvidos conectados a aparelhagem sonora.
- III. Com o braço do lado de fora.

Está CORRETO o que se afirma:

- a) Apenas nos itens I e II.
- b) Apenas nos itens I e III.
- c) Apenas nos itens II e III.
- d) Em todos os itens.

36) Conforme a Lei nº 9.503/1997 – Código de Trânsito Brasileiro, constitui infração grave, com penalidade multa, deixar de reduzir a velocidade do veículo de forma compatível com a segurança do trânsito:

- I. Ao aproximar-se de locais sinalizados com advertência de obras ou trabalhadores na pista.
- II. Nas proximidades de escolas, hospitais, estações de embarque e desembarque de passageiros e locais onde haja intensa movimentação de pedestres.
- III. Quando o pavimento se apresentar escorregadio, defeituoso ou avariado.

Está CORRETO o que se afirma:

- a) Apenas nos itens I e II.
- b) Apenas nos itens I e III.
- c) Apenas nos itens II e III.
- d) Em todos os itens.

37) Enquanto conduz seu veículo, você avista a placa de sinalização abaixo, posicionada antes da entrada da via que pretende seguir.



Fonte: Pemavel. Adaptada

De acordo as normas previstas na Sinalização Vertical de Regulamentação, a imposição aplicada nessa situação é:

- a) Obrigatoriedade de dar preferência de passagem ao veículo que circula na via em que o condutor pretende entrar ou cruzar.
- b) Obrigatoriedade de o condutor parar completamente o veículo antes de prosseguir.
- c) Indicação de que o condutor está em uma via preferencial, garantindo o seu direito de passar primeiro.
- d) Alerta sobre um cruzamento perigoso, sem impor obrigação de parada ou preferência.

38) A caixa de marchas permite ajustar a relação entre força e velocidade do motor conforme a necessidade de operação da máquina. Sobre seu funcionamento, analisar os itens.

- I. A caixa de marchas atua como multiplicador de força e/ou velocidade, permitindo ao motor fornecer potência adequada para diferentes situações de deslocamento.
- II. Em rotações mais altas do motor em relação ao eixo, obtém-se maior velocidade e menor força.
- III. Independentemente da marcha ou velocidade do câmbio, a proporção de rotação do motor e a rotação do eixo sempre será a mesma.

Está CORRETO o que se afirma:

- a) Apenas no item I.
- b) Apenas no item II.
- c) Apenas nos itens I e III.
- d) Em todos os itens.

39) O sistema de freio é responsável por reduzir a velocidade ou interromper o movimento do veículo quando acionado. Sobre esse sistema, analisar os itens.

- I. O sistema de freio pode ser classificado em mecânico, hidráulico e pneumático, de acordo com o meio de acionamento.
- II. Em um veículo, existem apenas freios de serviço, que atuam diretamente na redução da velocidade durante a condução.
- III. O veículo possui freio de estacionamento ou emergência e freio de serviço, visando proporcionar maior segurança ao condutor.

Está CORRETO o que se afirma:

- a) Apenas no item I.
- b) Apenas no item II.
- c) Apenas nos itens I e III.
- d) Em todos os itens.

40) A segurança no transporte de cargas começa antes mesmo de o veículo sair para a viagem. O motorista deve realizar verificações no veículo para prevenir problemas durante o trajeto. Qual é a ação simples e importante que o motorista deve realizar no veículo para prevenir acidentes?

- a) Abastecer o veículo com combustível premium de alta qualidade.
- b) Realizar checklist (lista de verificação) no veículo antes de iniciar o trabalho.
- c) Trocar os pneus do veículo a cada três meses, independentemente do desgaste.
- d) Instalar um sistema de som de alta potência para manter o motorista alerta durante a viagem.