

## Gari

### Antes de iniciar a prova, leia as instruções:

- ✓ Para fazer a prova, você recebeu:
  - este caderno de prova, que contém **40 questões**;
  - um cartão de respostas.
- ✓ **Confira:**
  - **no cartão de respostas:** nome, número e cargo, emprego ou função da inscrição.
  - **no caderno de prova:** cargo, emprego ou função e quantidade de questões.
- ✓ **Duração da prova: 3 horas**
  - Incluído o tempo para o preenchimento do cartão de respostas.
  - Levar caderno: após **60 minutos de prova**.
  - Por questões de segurança, o candidato que sair antes desse tempo devolverá ao fiscal da sala, além do cartão de respostas, o caderno de prova.
- ✓ Verifique, no caderno de prova, se:
  - faltam folhas e se a sequência e a quantidade de questões estão corretas.
  - há imperfeições gráficas que possam causar dúvidas.
- ✓ **Comunique imediatamente ao fiscal qualquer irregularidade! Não serão admitidas reclamações posteriores.**
- ✓ A interpretação das questões é parte integrante da prova, não sendo permitidas perguntas relacionadas ao conteúdo aos fiscais.
- ✓ Não é permitido qualquer tipo de consulta durante a realização da prova, tampouco empréstimo de materiais e comunicação entre os candidatos.
- ✓ **O cartão de respostas é o único documento válido e utilizado para a correção da prova objetiva.** Preencha-o com cuidado, marcando apenas uma alternativa para cada questão.
- ✓ Não rabisque, rasure, amasse ou dobre o cartão de respostas. É vedada a substituição do cartão de respostas decorrente de erro do candidato.
- ✓ As respostas devem ser transcritas exclusivamente para o cartão de respostas, sendo proibida a cópia em qualquer outro local.
- ✓ É proibido anotar o conteúdo da prova em qualquer local fora do caderno de provas.
- ✓ Ao concluir a prova, permaneça em seu lugar e comunique ao fiscal de sala, aguardando autorização para entregar o material.
- ✓ Ao terminar a prova, entregue ao fiscal o cartão de respostas devidamente preenchido e assinado.
- ✓ Os três últimos candidatos devem permanecer em sala a fim de acompanhar o fechamento do material.

Fraudar ou tentar fraudar concursos públicos é crime previsto no art. 311-A do Código Penal.

Nome do Candidato:

Nº de Inscrição:

Pressão arterial com valor de 12/8 passa a ser considerada pré-hipertensão

A leitura de 12/8, antes vista como sinônimo de pressão arterial perfeita, agora é classificada como pré-hipertensão, de acordo com as novas diretrizes elaboradas pela Sociedade Brasileira de Cardiologia, Nefrologia e Hipertensão.

As novas diretrizes indicam que quem está na faixa de pré-hipertensão deve adotar mudanças no estilo de vida, como reduzir o consumo de sal, controlar o peso, praticar atividades físicas e gerenciar o estresse. O uso de medicamentos, no entanto, só é considerado em casos específicos — como em pessoas com pressão acima de 13/8 associada a diabetes ou doenças renais.

A hipertensão raramente aparece sozinha. Em grande parte dos casos ela vem acompanhada de obesidade, colesterol alto e glicemia elevada, o que multiplica os riscos. Por isso, a diretriz reforça a importância de observar o paciente como um todo, e não apenas o número no medidor.

A hipertensão não controlada é a principal causa de mortes no mundo, direta ou indiretamente. Por isso, o recado é simples: medir a pressão ao menos uma vez por ano e procurar acompanhamento médico regular. É uma doença silenciosa, mas que pode ser prevenida com atitudes simples. O importante é não esperar os sintomas aparecerem.

Fonte: Jornal da USP no Ar. Adaptado.

**1)** A palavra “hipertensão” contém o prefixo “hiper”, que é adicionado nessa palavra para significar:

- a) Afastamento ou privação.
- b) Negação de algo.
- c) Posição abaixo do normal.
- d) Posição acima do normal.

**2)** De acordo com as informações do texto, avaliar se as afirmativas são certas (C) ou erradas (E) e assinalar a sequência correspondente.

- ( ) A nova faixa de hipertensão está abaixo da antiga de 12/8.
- ( ) Não controlar a hipertensão é a principal causa de mortes no mundo.
- ( ) É recomendado medir a pressão ao menos uma vez por ano e ter acompanhamento médico regular.

- a) C - C - E.
- b) E - E - C.
- c) C - E - E.
- d) E - C - C.

**3)** De acordo com o texto, assinalar a alternativa CORRETA.

- a) Gerenciar o estresse é uma das mudanças de estilo de vida que pioram a pressão arterial.
- b) O uso de medicamentos é indicado para pessoas com pressão abaixo de 13/8.
- c) É raro a hipertensão aparecer sozinha.
- d) A diretriz reforça observar apenas o número do medidor.

**4)** Qual das alternativas apresenta antônimos para os termos sublinhados abaixo, respectivamente?

É uma doença silenciosa, mas que pode ser prevenida com atitudes simples. (4º parágrafo)

- a) Barulhenta | complexas.
- b) Quieta | descomplicadas.
- c) Estrondosa | fáceis.
- d) Sossegada | confusas.

**5)** Em “Caso haja dúvidas durante o processo, consulte o manual de procedimentos.”, qual é a classificação da palavra em destaque?

- a) Adjetivo.
- b) Verbo.
- c) Substantivo.
- d) Pronome.

**6)** O enunciado abaixo apresenta apenas um erro. Assinalar a alternativa que aponta esse erro CORRETAMENTE.

*A assembleia se reuniu hoje para votar diversos assuntos, como o novo código a nova chefia e o local do evento.*

- a) A palavra “assembleia” deveria ser acentuada.
- b) O verbo “reuniu” deveria estar no plural (“reuniram”).
- c) Falta uma vírgula após “novo código”.
- d) Deve haver uma vírgula depois de “diversos”.

**7)** Assinalar a alternativa em que o predicado foi sublinhado.

- a) A professora explicou o tema.
- b) Nós caminhamos pela calçada.
- c) Brincaram bastante o gato e o cachorro.
- d) Minha mãe cozinhou.

8) Considerando-se a flexão do verbo "beber", avaliar se as afirmativas são certas (C) ou erradas (E) e assinalar a sequência correspondente.

- ( ) Ele bebi suco no almoço.
- ( ) Eu bebia xarope antes de dormir.
- ( ) Ela beberá água com gás.

- a) C - C - E.
- b) E - E - C.
- c) C - E - E.
- d) E - C - C.

9) Na frase "A posta\_\_em de uma boba\_\_em o levou a um lití\_\_io.", quantas das três lacunas devem ser preenchidas com a letra "j" para correção ortográfica?

- a) Nenhuma.
- b) Somente uma.
- c) Somente duas.
- d) Todas.

10) Considerando-se a frase "Os funcionários atentos e organizados receberam a notificação.", avaliar se as afirmativas são certas (C) ou erradas (E) e assinalar a sequência correspondente.

- ( ) A palavra "Os" é um pronome.
- ( ) A palavra "funcionários" é um substantivo masculino no plural.
- ( ) As palavras "atentos" e "organizados" caracterizam o substantivo "funcionários".

- a) C - C - E.
- b) E - E - C.
- c) C - E - E.
- d) E - C - C.

11) A forma plural CORRETA e semanticamente adequada da frase "O cidadão demonstrou tensão" é:

- a) Os cidadãos demonstraram tensões.
- b) Os cidadãos demonstraram tensãos.
- c) Os cidadãos demonstraram tensões.
- d) Os cidadãos demonstraram tensãos.

12) Considerar as seguintes frases.

João foi reprovado.  
João não estudou para o concurso.

Nas alternativas abaixo, as frases foram reescritas em um único período. Assinalar a alternativa na qual a segunda frase expresse a causa do que foi dito na primeira.

- a) João foi reprovado, por isso não estudou para o concurso.
- b) João foi reprovado porque não estudou para o concurso.
- c) João foi reprovado, embora não tenha estudado para o concurso.
- d) João foi reprovado e não estudou para o concurso.

13) Assinalar a alternativa que apresenta sentido figurado.

- a) Minha mente é um labirinto.
- b) Cantei minha música favorita.
- c) O repertório não agradou ao público.
- d) O gato subiu na cama.

14) Assinalar a alternativa que apresenta apenas palavras proparoxítonas.

- a) Até | didático | tênis.
- b) Árvore | bússola | crítico.
- c) Dócil | céu | peru.
- d) Recém | paralelepípedo | jiló.

15) Assinalar a alternativa em que o verbo sublinhado esteja no modo imperativo.

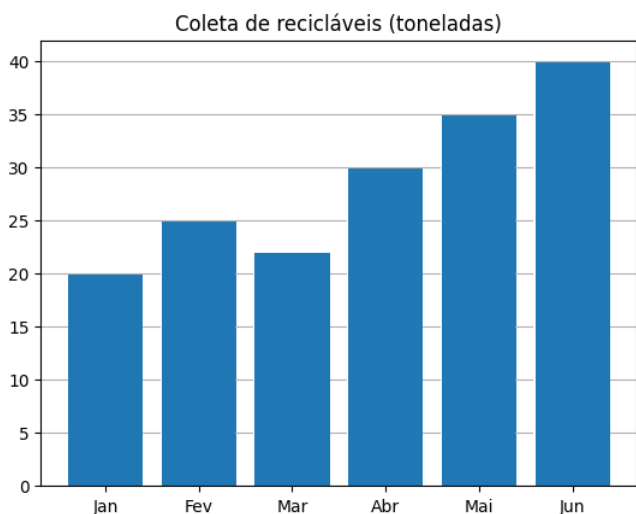
- a) Não gosto de macarrão à bolonhesa.
- b) Ela falou sobre a apresentação.
- c) Pare de inventar história.
- d) Ele cantará no show.

## MATEMÁTICA | 10 QUESTÕES

16) Um criador de galinhas retira todos os dias 52 ovos de sua produção para vender na feira, que acontece duas vezes ao mês. Os ovos são comercializados em dúzias, ao preço de R\$ 18,00 por dúzia. Se ele vender exatamente R\$ 468,00, significa que a produção de quantos dias foi vendida?

- a) Seis.
- b) Sete.
- c) Cinco.
- d) Quatro.

17) O gráfico a seguir mostra a quantidade, em toneladas, de resíduos recicláveis coletados por uma cooperativa ao longo de seis meses.



Com base nos dados apresentados no gráfico, avaliar se as afirmativas são certas (C) ou erradas (E) e assinalar a sequência correspondente.

- ( ) A cada mês, houve incremento constante de 5 toneladas.
- ( ) A menor quantidade coletada ocorreu no mês de janeiro.
- ( ) A coleta realizada em junho é o dobro da realizada em janeiro.

- a) C - C - E.
- b) E - E - C.
- c) C - E - E.
- d) E - C - C

18) Para assistir a um filme no cinema, cada ingresso de adulto custa R\$ 30,00, e cada ingresso de criança custa R\$ 15,00. Considerando-se isso, avaliar se as afirmativas são certas (C) ou erradas (E) e assinalar a sequência correspondente.

- ( ) Para comprar dois ingressos de adulto e dois ingressos de criança, gasta-se R\$ 90,00.
- ( ) Com R\$ 100,00, é possível comprar três ingressos de adulto e um de criança.
- ( ) Com R\$ 140,00, é possível comprar no máximo seis ingressos de criança.

- a) C - C - E.
- b) E - E - C.
- c) C - E - E.
- d) E - C - C.

19) Considerando-se o resultado das expressões, avaliar se as afirmativas são certas (C) ou erradas (E) e assinalar a sequência correspondente.

- ( ) O resultado de  $5 - 8 \times 0$  é igual ao resultado de  $2 - 28 \div 4$ .
- ( ) O resultado de  $15 - 5 \times 2$  é maior que o resultado de  $15 \div 5 + 2$ .
- ( ) O resultado de  $8 \times 1 - 10$  é um número negativo.

- a) C - C - E.
- b) E - E - C.
- c) C - E - E.
- d) E - C - C.

20) Em uma urna, há três bolas azuis e cinco bolas vermelhas, todas iguais em tamanho e peso, diferindo apenas pela cor. Uma pessoa retira duas bolas ao acaso, sem reposição, isto é, a primeira bola retirada não é devolvida à urna antes da retirada da segunda. Sobre as probabilidades quanto às cores das bolas retiradas, analisar os itens.

- I. A retirada de duas bolas azuis é impossível de acontecer.
- II. A retirada de duas bolas vermelhas é o evento menos provável.
- III. É mais provável ocorrer pelo menos uma bola azul do que ocorrer duas bolas azuis.

Está CORRETO o que se afirma:

- a) Apenas no item I.
- b) Apenas no item II.
- c) Apenas no item III.
- d) Apenas nos itens II e III.

21) Avaliar se as afirmativas são certas (C) ou erradas (E) e assinalar a sequência correspondente.


- ( ) Meio quilograma corresponde a 500 gramas.
- ( ) Um litro e meio corresponde a 1.500 mililitros.
- ( ) Uma hora corresponde a 100 segundos.

- a) C - C - E.
- b) E - E - C.
- c) C - E - E.
- d) E - C - C.

22) Uma moto faz, em média, 26,5km com um litro de combustível. Se o tanque tem 14 litros de combustível, ao todo, quantos quilômetros a moto poderá percorrer, aproximadamente?

- a) 236
- b) 286
- c) 371
- d) 428

23) Uma prova que iniciou pela manhã, no horário indicado no relógio abaixo, tem duração máxima de 03 horas e 45 minutos.



Sobre isso, analisar os itens.

- I. Se a prova terminar exatamente no tempo máximo previsto, o horário final será 11:21.
- II. Após 1 hora e 15 minutos do início da prova, o relógio marcará 08:51.
- III. Quando estiver faltando apenas 1 hora para o término da prova, o relógio marcará 10:81.

Está CORRETO o que se afirma:

- a) Apenas nos itens I e II.
- b) Apenas nos itens I e III.
- c) Apenas nos itens II e III.
- d) Em todos os itens.

24) Na entrada de um estacionamento pago, encontra-se a seguinte placa dos valores cobrados:

**ESTACIONE AQUI!**

- 1ª hora ..... R\$ 15,00
- 2ª hora ..... R\$ 12,00
- 3ª hora em diante .... R\$ 5,00 por hora

Um motorista estaciona seu veículo às 22h15 e o retira às 7h15 do dia seguinte, permanecendo no estacionamento durante todo esse período, sem interrupções. O valor total a ser pago para o estacionamento é:

- a) R\$ 57,00
- b) R\$ 62,00
- c) R\$ 65,00
- d) R\$ 72,00

25) Considerando-se a correlação entre meses e períodos do ano, avaliar se as afirmativas são certas (C) ou erradas (E) e assinalar a sequência correspondente.

- ( ) Março é um mês do primeiro trimestre do ano.
- ( ) Julho é um mês do segundo trimestre do ano.
- ( ) Setembro é um mês do último trimestre do ano.
- ( ) Agosto é um mês do segundo semestre do ano.

- a) C - C - E - E.
- b) E - E - C - C.
- c) C - E - E - C.
- d) E - C - C - E.

## CONHECIMENTOS ESPECÍFICOS | 15 QUESTÕES

**26)** Quanto às competências atribuídas ao Município pela Lei Orgânica Municipal, avaliar se as afirmativas são certas (C) ou erradas (E) e assinalar a sequência correspondente.

- ( ) Exigir ou aumentar tributo sempre que o interesse público assim o exigir, independentemente de lei que o estabeleça.
- ( ) Organizar e manter os serviços de fiscalização necessários ao exercício do seu poder de polícia administrativa.
- ( ) Realizar, diretamente ou mediante autorização ou concessão, o serviço de iluminação pública.

- a) C - C - E.
- b) E - E - C.
- c) C - E - E.
- d) E - C - C.

**27)** No que tange ao regime disciplinar, quanto aos deveres e às proibições previstos ao servidor público na Lei Complementar Municipal nº 005/2021, relacionar as colunas e assinalar a sequência correspondente.

- (1) Dever.
- (2) Proibição.

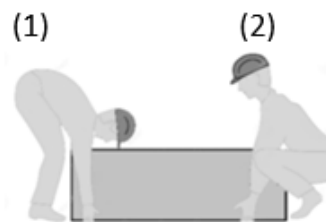
- ( ) Promover manifestação de apreço ou despreço no recinto da repartição.
- ( ) Tratar as pessoas com urbanidade.
- ( ) Proceder de forma desidiosa.

- a) 1 - 1 - 2.
- b) 1 - 2 - 1.
- c) 2 - 1 - 2.
- d) 2 - 2 - 1.

**28)** Nos termos da Lei Complementar Municipal nº 005/2021, o instrumento destinado a apurar responsabilidade de servidor por infração praticada no exercício de suas atribuições, ou que tenha relação com as atribuições do cargo em que se encontre investido, é denominado:

- a) Contestação funcional.
- b) Processo disciplinar.
- c) Recurso administrativo.
- d) Litígio interno.

**29)** Durante o levantamento de uma caixa de 50kg, os trabalhadores 1 e 2 adotam posturas diferentes, conforme ilustrado abaixo.



Considerando-se as boas práticas de segurança no trabalho, assinalar a alternativa CORRETA.

- a) A postura (1) é a mais segura, pois permite maior alcance dos braços.
- b) A postura (1) é a mais segura, pois mantém as pernas esticadas e reduz esforço nos joelhos.
- c) A postura (2) é a mais segura, pois mantém a coluna reta e utiliza a força das pernas para levantar.
- d) As duas posturas são seguras, pois utilizam contrapontos para compensar as partes que serão mais forçadas.

**30)** Sobre ética no serviço público, é CORRETO afirmar que:

- a) O servidor público deve agir com honestidade, imparcialidade e respeito ao interesse coletivo.
- b) A ética no serviço público está relacionada apenas ao cumprimento de horários.
- c) O servidor público pode usar o cargo para obter vantagens pessoais, desde que não prejudique o setor.
- d) A ética se aplica apenas aos cargos de chefia.

**31)** Em caso de identificação de risco no ambiente de trabalho (como um fio elétrico exposto), o servidor deve:

- a) Ignorar o problema, pois não é sua responsabilidade.
- b) Comunicar imediatamente ao setor responsável ou à chefia.
- c) Tentar consertar sozinho, mesmo sem conhecimento técnico.
- d) Aguardar que outro colega tome providências.

**32)** O comportamento profissional adequado no ambiente de trabalho inclui:

- I. Priorizar interesses pessoais em detrimento da equipe.
- II. Agir com ética, responsabilidade e equilíbrio emocional.
- III. Respeitar as normas inclusive quando não há supervisão.

Está CORRETO o que se afirma:

- a) Apenas no item III.
- b) Apenas nos itens I e II.
- c) Apenas nos itens I e III.
- d) Apenas nos itens II e III.

**33)** No cotidiano do gari, diferentes métodos são aplicados conforme a necessidade da via. Nesse sentido, relacionar as colunas e assinalar a sequência correspondente.

- (1) Varrição seca.
- (2) Capinação.
- (3) Raspagem de sarjetas.

- ( ) Retirada de vegetação pela raiz para conter o seu crescimento em calçadas e vias públicas e manter a limpeza.
- ( ) Coleta de poeira, papéis e detritos leves acumulados nas sarjetas com o auxílio de vassouras e pás.
- ( ) Retirada de areia, lama, terra e vegetação de vias e logradouro para limpeza e escoamento de águas pluviais.

- a) 2 - 1 - 3.
- b) 1 - 2 - 3.
- c) 2 - 3 - 1.
- d) 3 - 1 - 2.

**34)** Nas vias públicas, após a realização de eventos, é comum que haja lixos e detritos espalhados pelo chão, como ilustrado na imagem.



Nessas situações, a equipe de limpeza deve:

- a) Recolher esses itens, despejando-os nas bocas de lobo mais próximas.
- b) Amontoar esses itens, deixando-os na sarjeta.
- c) Deixar os itens espalhados, pois serão levados pela chuva ou vento.
- d) Recolher esses itens, despejando-os nos recipientes adequados para descarte.

**35)** Para a remoção eficiente de folhas secas e pequenos detritos em gramados de praças públicas, sem danificar a vegetação, a ferramenta mais adequada é:

- a) Rastelo.
- b) Sacho.
- c) Foice.
- d) Pazinha.

**36)** A respeito da limpeza de terrenos baldios, avaliar se as afirmativas são certas (C) ou erradas (E) e assinalar a sequência correspondente.

- ( ) A inspeção prévia do terreno é dispensável se o mato estiver baixo, pois o risco de objetos cortantes é inexistente.
- ( ) O recolhimento de entulhos deve ocorrer antes do uso de roçadeiras para evitar o arremesso de detritos pelo equipamento.
- ( ) Os resíduos verdes resultantes da capina devem ser queimados no próprio local para facilitar o descarte.

- a) C - C - E.
- b) E - C - C.
- c) E - C - E.
- d) C - E - C.

**37)** A respeito da limpeza seca, avaliar se as afirmativas são certas (C) ou erradas (E) e assinalar a sequência correspondente.

- ( ) A limpeza seca caracteriza-se pela remoção de sujidades soltas, como pó e poeira, sem o emprego de água, podendo ser realizada por meio de vassouras ou aspiradores de pó.
- ( ) O uso de vassouras na limpeza seca é indicado, preferencialmente, para áreas externas e descobertas, como pátios e estacionamentos, em razão da maior dispersão de partículas.
- ( ) Em áreas internas e cobertas, a limpeza seca deve ser realizada, obrigatoriamente, com vassoura comum, sendo vedada a utilização de aspirador de pó.

- a) C - C - E.
- b) E - E - C.
- c) C - E - E.
- d) E - C - C.

---

**38)** Assinalar a alternativa que preenche as lacunas abaixo CORRETAMENTE.

*A conservação das ferramentas de trabalho é parte da rotina do gari. Após o uso de \_\_\_\_\_, o profissional deve realizar a limpeza da ferramenta e guardá-la em local seco, evitando que as cerdas fiquem \_\_\_\_\_ pelo peso do cabo, o que prejudica sua qualidade.*

- a) rastelo | esticadas
- b) vassoura | amassadas
- c) enxada | enferrujadas
- d) lixeira | úmidas

---

**39)** A respeito da limpeza concorrente, prática rotineira adotada em ambientes institucionais e coletivos, avaliar se as afirmativas são certas (C) ou erradas (E) e assinalar a sequência correspondente.

- ( ) A limpeza concorrente consiste na execução diária de atividades de higienização em áreas críticas, com a finalidade de manter o asseio, a organização e as condições adequadas de uso dos ambientes.
- ( ) O abastecimento e a reposição de materiais de consumo diário, como sabonete líquido e papel higiênico, fazem parte da limpeza concorrente.
- ( ) A limpeza concorrente é realizada apenas de forma eventual, sendo restrita a situações emergenciais ou a situações em que haja acúmulo excessivo de sujidades visíveis.

- a) E - E - C.
- b) C - C - E.
- c) C - E - E.
- d) E - C - C.

---

**40)** No que se refere ao descarte de resíduos, avaliar se as afirmativas são certas (C) ou erradas (E) e assinalar a sequência correspondente.

- ( ) Para o descarte correto, o ideal é utilizar recipientes apropriados para cada tipo de resíduo.
- ( ) Não há problema em misturar resíduos recicláveis com resíduos orgânicos.
- ( ) O chamado “lixo eletrônico” deve ser descartado no lixo comum, pois não tem possibilidade de reciclagem.

- a) C - C - E.
- b) E - E - C.
- c) C - E - E.
- d) E - C - C.